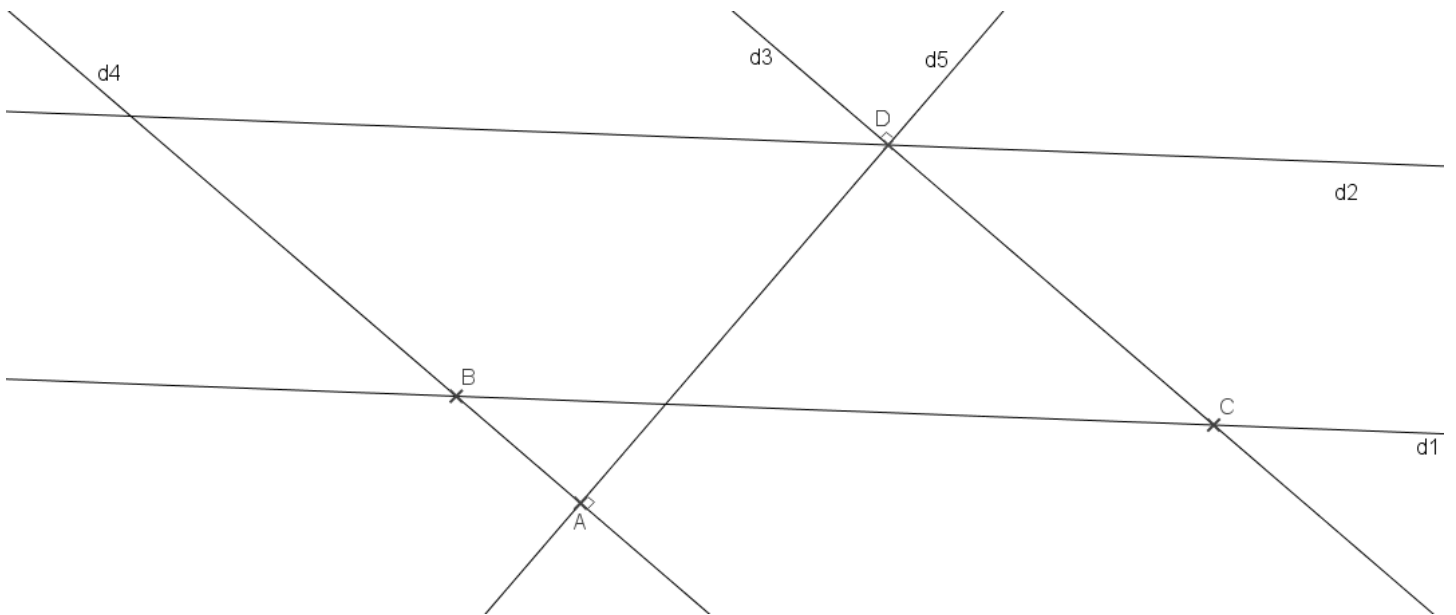


Dictée flash

La Tour Eiffel est un exploit technique réalisée
à l'occasion de l'Exposition Universelle mordu
de 1889.
Annotations: 'est' is circled in pink with an arrow pointing to 'était'; 'à' is circled in pink with an arrow pointing to 'avait'; 'réalisée' is circled in green with an arrow pointing to 'mordu'; 'Exposition' is circled in green with 'Nom féminin' below it; 'Universelle' is circled in green with 'Adj.' below it.

Mathématiques (rituel. Ecrire la date et Mesures).

Consigne : colorier un angle droit en rouge, deux angles aigus en bleu, deux angles obtus en vert.



CH1

$$\begin{array}{r}
 \textcircled{1} \textcircled{0} \textcircled{0} \\
 6547 \\
 + 4205 \\
 + \quad 765 \\
 \hline
 11517
 \end{array}$$

$$\begin{array}{r}
 8213 \\
 - 4739 \\
 \hline
 3474
 \end{array}$$

$$\begin{array}{r}
 \textcircled{0} \textcircled{0} \textcircled{0} \\
 156,80 \\
 + 78,93 \\
 \hline
 235,73
 \end{array}$$

$$\begin{array}{r}
 156,80 \\
 - 78,93 \\
 \hline
 077,87
 \end{array}$$

→ Bien penser à aligner les virgules.

CH2

$$\begin{array}{r}
 \textcircled{0} \textcircled{0} \textcircled{0} \\
 36547 \\
 + 24205 \\
 + 4765 \\
 \hline
 65517
 \end{array}$$

$$\begin{array}{r}
 74253 \\
 - 28934 \\
 \hline
 45319
 \end{array}$$

$$\left. \begin{array}{l}
 156,8 + 78,93 = 235,73 \\
 156,8 - 78,93 = 77,87
 \end{array} \right\} \text{voir la correction des CH1.}$$

QUI EST-CE ?

----- Mimes -----



JEANNE



HUGO



AGATHE



ARTHUR



LEO



SOPHIE



TOM



MADI



LUCILE



SUZIE



IMANE



MELISSA



PAUL



GASPARD



LOU



INES

Exercice grammaire

1- Classe les adjectifs dans le tableau (attention certains adjectifs peuvent aller dans les deux colonnes) :

national – agile – naturelle – valable – vraie – riche – froide – utile – joyeux – blonde

Masculin	Féminin

2- Ecris ces adjectifs au féminin puis classe-les dans le tableau.

- a) neuf b) raide.....
c) mignon d) brillant.....
e) cruel..... f) absent
g) heureux h) dur.....
i) magique..... j) roux

Même terminaison	Consonne doublée + e	Consonne finale modifiée + e	Ajout d'un e

CORRECTION

1- Classe les adjectifs dans le tableau (attention certains adjectifs peuvent aller dans les deux colonnes) :

national – agile – naturelle – valable – vraie – riche – froide – utile – joyeux – blonde

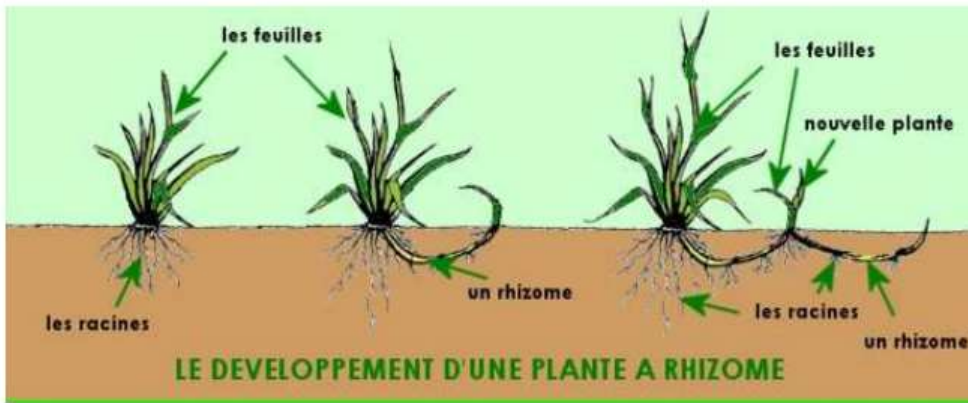
Masculin	Féminin
National	Agile
Agile	Naturelle
Valable	Valable
Riche	Vraie
Utile	Riche
Joyeux	Froide
	Utile
	Blonde

2- Ecris ces adjectifs au féminin puis classe-les dans le tableau.

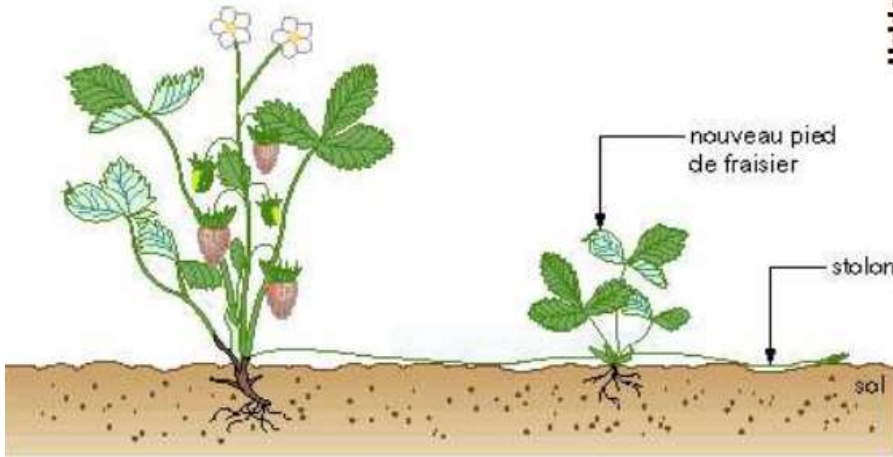
- a) neuf → **neuve** b) raide → **raide**
- c) mignon → **mignonne** d) brillant → **brillante**
- e) cruel → **cruelle** f) absent → **absente**
- g) heureux → **heureuse** h) dur → **dure**
- i) magique → **magique** j) roux → **rousse**

Même terminaison	Consonne doublée + e	Consonne finale modifiée + e	Ajout d'un e
Raide magique	mignonne cruelle	Neuve Heureuse rousse	brillante absente dure

1/ La reproduction par rhizome et par stolon:



Les stolons du fraisier



Vocabulaire:

- Un **rhizome** est une tige souterraine qui s'allonge et se ramifie. Elle permet ainsi la multiplication rapide de certains végétaux.
- Un pied de fraisier produit de longues tiges fines et rampantes, les **stolons**. A l'extrémité de chaque stolon, le bourgeon s'enracine et donne un nouveau pied.

1. Surligne sur le schéma ce qui permet aux plantes de se reproduire.

2. Quelle est la différence entre ce mode de reproduction et la reproduction sexuée vue lors de la précédente leçon ?

.....

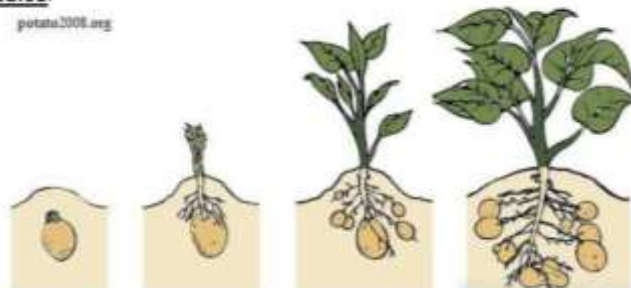
.....

.....

3. Cite un légume qui a des rhizomes :

2/ La reproduction par tubercules:

potato2008.org



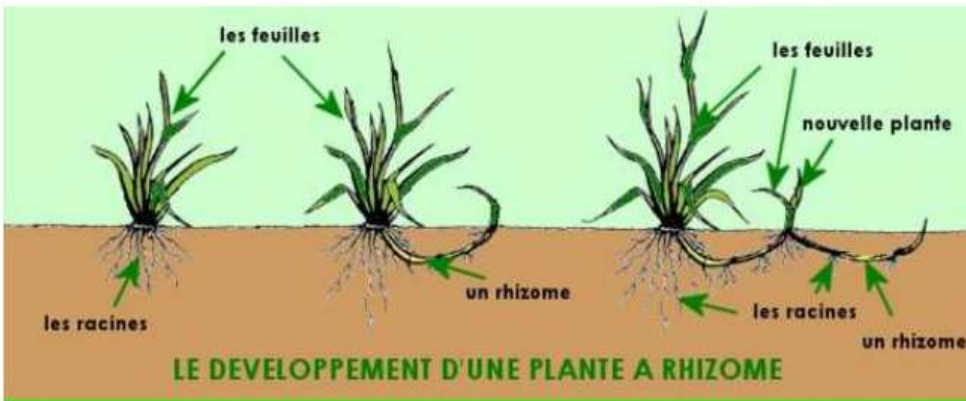
4. Qu'est-ce qu'un tubercule (regarde dans ton dictionnaire) ?

.....

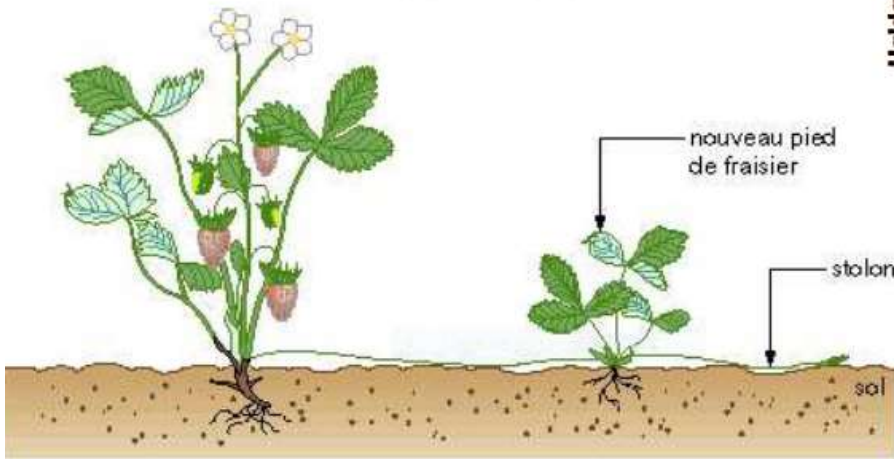
.....

.....

1/La reproduction par rhizome et par stolon:



Les stolons du fraisier



Vocabulaire:

- Un **rhizome** est une tige souterraine qui s'allonge et se ramifie. Elle permet ainsi la multiplication rapide de certains végétaux.
- Un pied de fraisier produit de longues tiges fines et rampantes, les **stolons**. A l'extrémité de chaque stolon, le bourgeon s'enracine et donne un nouveau pied.

1. Surligne sur le schéma ce qui permet aux plantes de se reproduire → le rhizome et le stolon.
2. Quelle est la différence entre ce mode de reproduction et la reproduction sexuée vue lors de la précédente leçon ?

Contrairement à la reproduction sexuée, ici il n'y a pas de rencontre entre un organisme mâle et un organisme femelle. Il n'y a donc pas de fécondation.

3. Cite un légume qui a des rhizomes : la pomme de terre, asperges, rhubarbes, topinambour, le gingembre.

2/ La reproduction par tubercules:

potato2008.org



4. Qu'est-ce qu'un tubercule (regarde dans ton dictionnaire) ?

Un tubercule est un organe de la plante qui stocke de la nourriture.