

Il dévalait la piste à toute vitesse. Ses nouveaux skis étaient vraiment géniaux!

Durant quelle saison se déroule cette scène?



Nous avons fait nos emplettes dans cette nouvelle boutique du centre commercial.

Que signifie « emplette » ?

« Ma sœur, dit mon frère, a perdu son portefeuille ! »

Qui a perdu son portefeuille ?

les petits devins - 26



Dictée flash

De nombreux artistes participent à la construction du château dont fait partie

la célèbre galerie des glaces.

Grammaire

1 - Souligne chacun des compléments d'objet. Indique s'il s'agit d'un COD ou d'un COI.
(Attention : il peut y en avoir plusieurs dans la même phrase.)

- a) Baptiste pense souvent à son grand-père.
- b) Mélanie parlait du spectacle : elle l'avait adoré.
- c) L'entraîneur se plaint de ses joueurs.
- d) J'emprunte un stylo et je le rendrai à la fin du contrôle.
- e) Le facteur a indiqué un bon restaurant à mon frère.
- f) Pour Noël, Bastien et Ophélie ont adressé une jolie carte postale à leurs grands-parents.

2 – Complète ces phrases avec un complément de ton choix (COD et COI). Indique la nature du complément que tu as ajouté (COD ou COI).

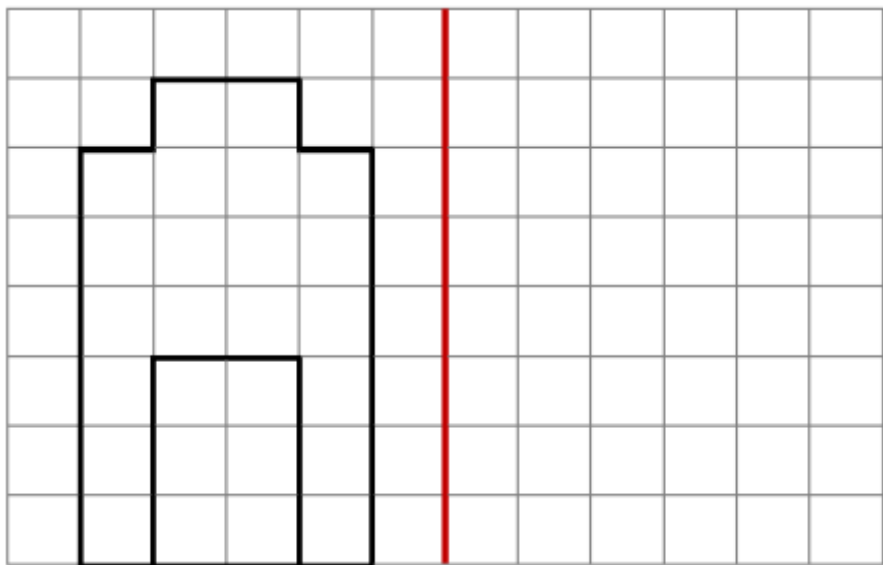
- a) J'ai oublié _____
- b) J'ai téléphoné _____
- c) Il a gardé _____
- d) Ma mère parle _____
- e) Tu as perdu _____

CORRECTION

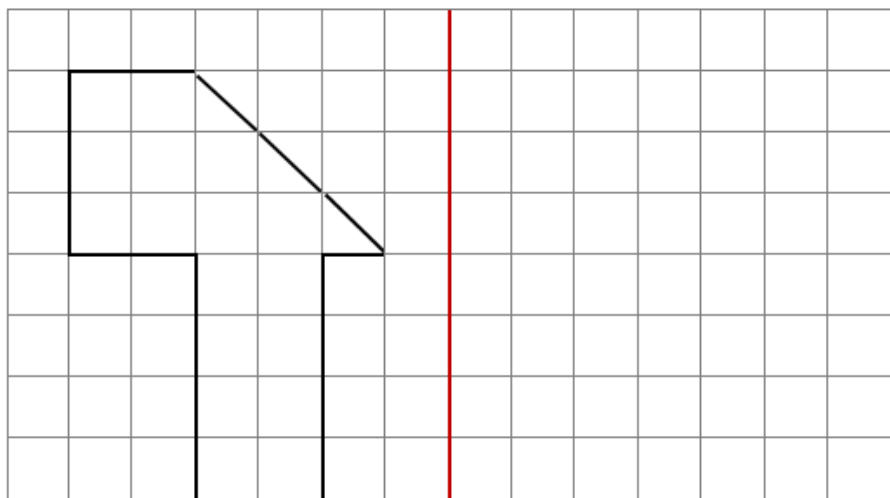
- a) Baptiste pense souvent à son grand-père.
COI
- b) Mélanie parlait du spectacle : elle l'avait adoré.
COI COI
- c) L'entraîneur se plaint de ses joueurs.
COI
- d) J'emprunte un stylo et je le rendrai à la fin du contrôle.
COD COD
- e) Le facteur a indiqué un bon restaurant à mon frère.
COD COI
- f) Pour Noël, Bastien et Ophélie ont adressé une jolie carte postale à leurs grands-parents.
COD CO

Mathématiques (CM1)

Trace la figure symétrique

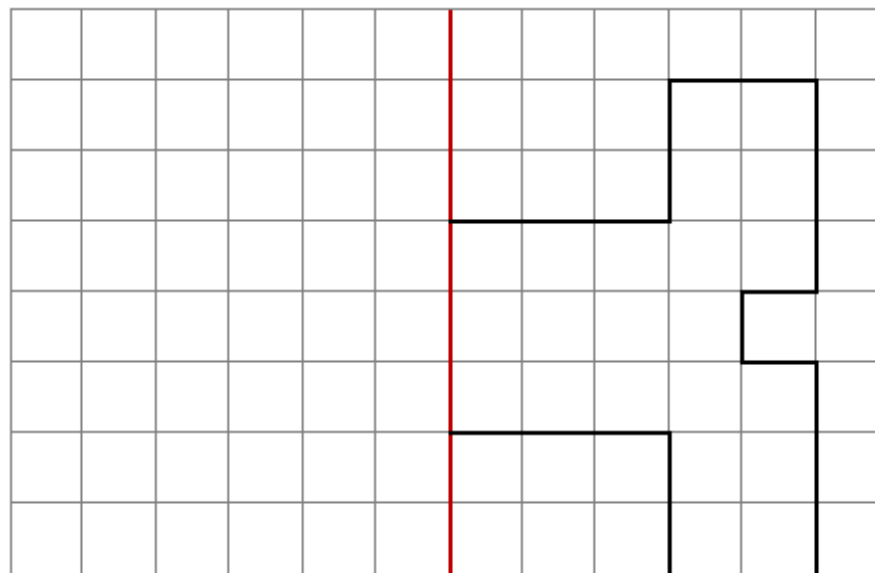


Trace la figure symétrique

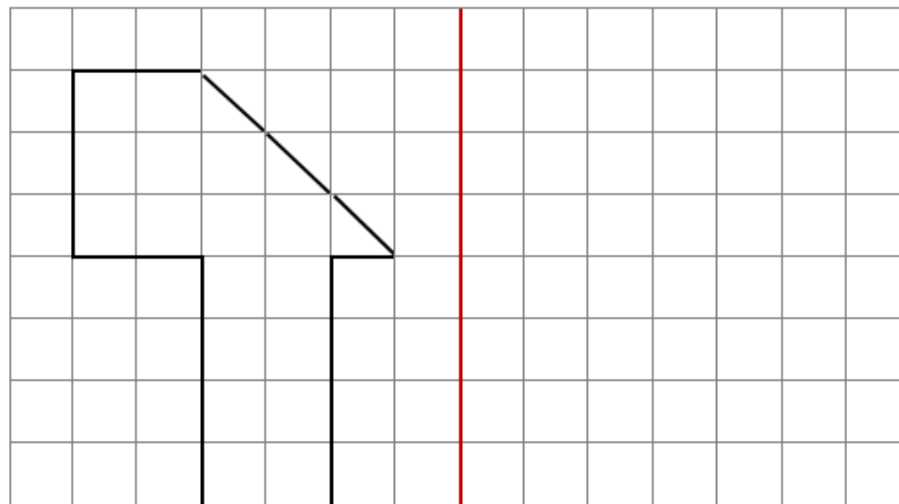


Mathématiques (CM2)

Trace la figure symétrique

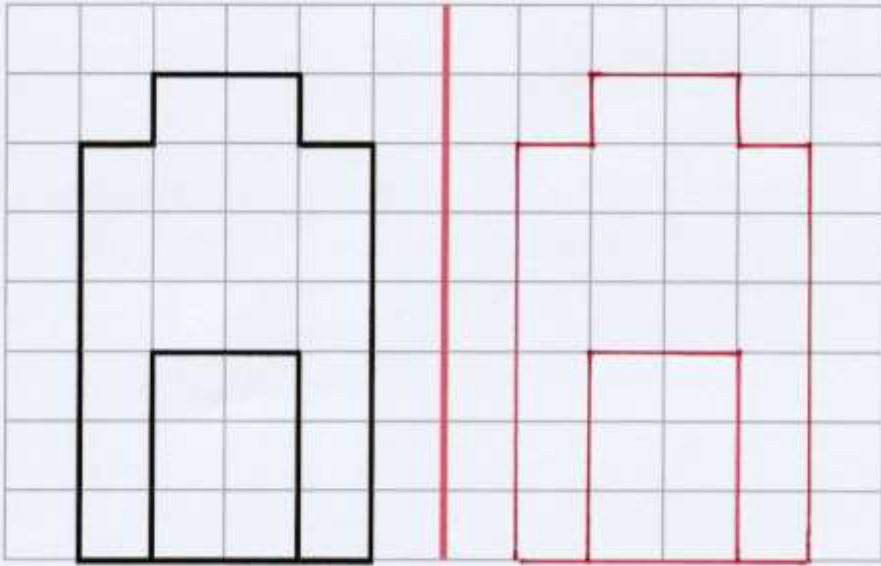


Trace la figure symétrique



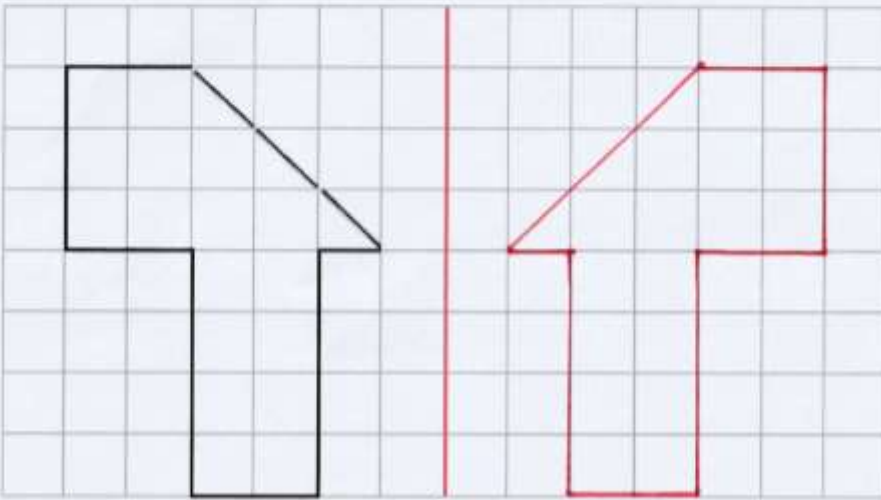
CORRECTION CM1

Trace la figure symétrique



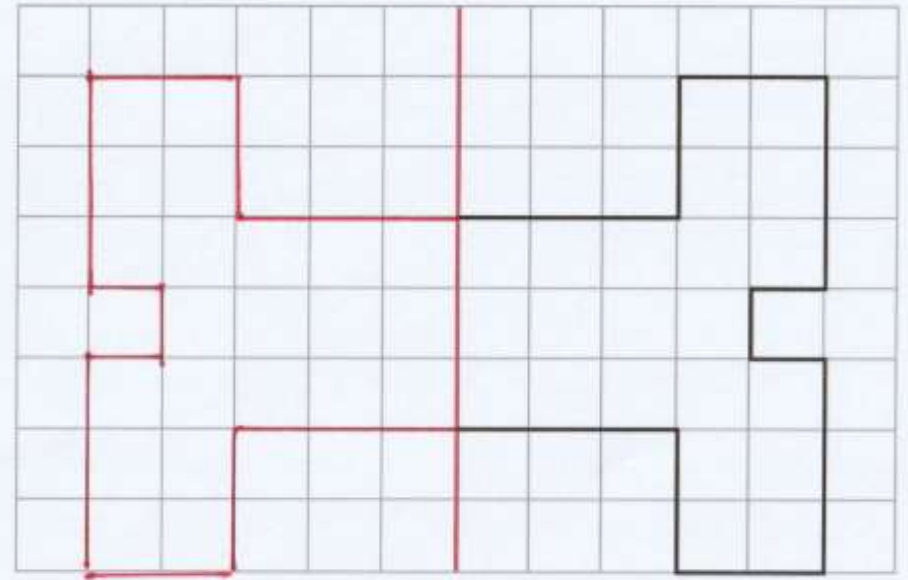
Fiche devoirs (2)

Trace la figure symétrique



CORRECTION CM2

Trace la figure symétrique



Trace la figure symétrique

